

نام و نام خانوادگی:

کلاس:

پایه: نهم

رشته: متوسطه اول

نام دبیر: فتاحیان

نام درس: مطالعات اجتماعی

تاریخ امتحان: ۱۴۰۲ / ۸ / ۰۲

مدت امتحان: ۶۵ دقیقه

نوبت: صبح

ساعت شروع: ۸

تعداد صفحه: ۴

صفحه:

نام مصحح:

نمره باعده:

نمره باحروف:

تاریخ و امضاء:

ردیف

سوالات

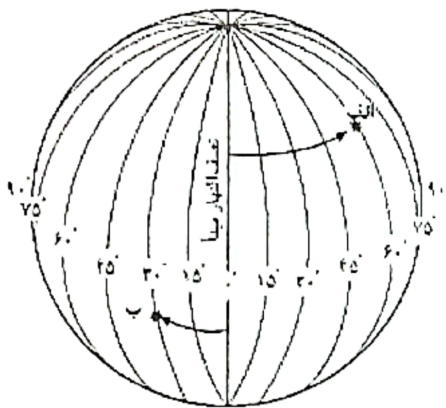
بارم

۱- کدام یک از سال‌های زیر روزهای بیشتری در تقویم دارد؟

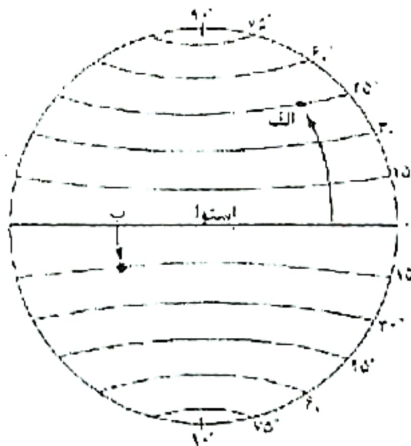
الف) سال خورشیدی (ب) سال رسمی (ج) سال کبیسه (د) سال واقعی

۲- هر نقطه از کره زمین روی یک مدار و نصف النهار مشخص قرار دارد که به آنها می‌گویند.

۳- طول و عرض جغرافیایی نقاط را با توجه به شکل زیر بصورت علائم اختصاری (N, S, W, E) بنویسید؟



طول جغرافیایی:
الف)
ب)



عرض جغرافیایی:
الف)
ب)

۴- مدار استوا را تعریف کنید؟

۵- اگر خورشید بر مدار رأس السرطان عمود بتابد، همزمان در نیمکره جنوبی چه وضعی حاکم است؟

الف) اعتدال بهاری (ب) انقلاب تابستانی (ج) اعتدال پاییزی (د) انقلاب زمستانی

۶- در زندگی روزانه، ساعت واقعی چه کاربردی دارد؟

۷- زندگی انسان و دیگر موجودات زنده در روی سیاره زمین جز کدام یک از محیط‌های زیر می‌باشد؟

الف) لیتوسفر (ب) اتمسفر (ج) هیدروسفر (د) بیوسفر


۸- از عوامل مهم جریان عمومی هوا و تغییرات آب و هوایی در مناطق مختلف چیست؟

الف) سطح ارتفاعات (ب) جریان‌های دریایی (ج) پراکندگی کانون‌های فشار (د) عرض جغرافیایی

۹- با توجه به تصویر زیر به سوالات پاسخ دهید.

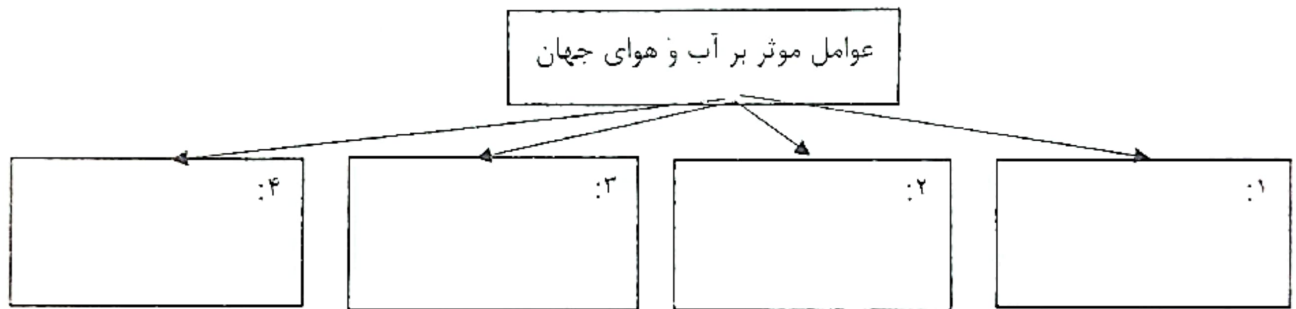
الف) نواحی ۱ و ۲ چه نامیده می شود؟

ب) ناحیه شماره ۱ دارای اهمیت زیادی است دو مورد از دلایل اهمیت این ناحیه را بنویسید؟



۱۱- چرا انسان چهره‌ی ناهمواری‌ها را تغییر داده است؟

۱۰- نمودار زیر را کامل کنید.



۱۲- در توندرا چه نوع گیاهانی می روید؟

الف) درخت نارگیل و قهوه ب) درختان سرو ج) خزه و گلسنگ د) بوته های خاردار

۱۳- برای استفاده خردمندان از منابع روی زمین یک راهکار در رابطه با حفظ جنگل‌های استوایی بنویسید؟

۱۴- وجود هر زیست بوم در یک ناحیه به چه عواملی بستگی دارد؟

۱۵- جنگل زدایی چه تأثیری بر گرم شدن زمین دارد؟

۱۶- گسترده‌ترین زیست‌بوم است که دارای جنگل‌های مخروطی و سوزنی برگ است.

۰/۵

۱۷- علت اصلی رشد فوق العاده جمعیت جهان در دو بیست سال اخیر چیست؟

الف) بهبود تغذیه ب) افزایش بهداشت ج) افزایش زاد و ولد د) کاهش مرگ و میر

۱

۱۸- به نظر شما مهاجرت گسترده به تهران و رشد سریع شهرنشینی، این شهر را با چه مسائلی و مشکلاتی رو به رو کرده است؟
(۲ مورد)

۱

۱۹- ملاک‌های توسعه‌ی انسانی کدامند؟ (۲ مورد)

۱

۲۰- از جمله برنامه‌های دولت‌ها برای جلوگیری از کاهش رشد جمعیت و تشویق فرزندآوری چیست؟

۰/۵

۲۱- کدام اقدام زیر مربوط به شاه عباس اول صفوی می‌باشد؟

الف) انتقال پایتخت از قزوین به اصفهان ب) تأسیس سلسله صفویان
ج) رسمی کردن مذهب شیعه د) تحکیم و تثبیت حکومت صفویان

۰/۵

۲۲- علت شکست ایرانیان در جنگ چالدران چه بود؟

۰/۵

۲۳- دلایل رونق تجارت داخلی و خارجی در زمان صفویه چه بود؟ (۲ مورد)

۰/۵

۲۴- چرا در عصر صفوی عالمان و اندیشمندان بزرگی پرورش یافته و آثار ارزشمند علمی و مذهبی بسیار نوشته شده است؟

۱

۲۵- هر یک از اقدامات زیر مربوط به کدامیک از پادشاهان صفوی می‌شود؟ (یک مورد اضافی است)

شاه عباس - شاه طهماسب - شاه عباس

الف- اخراج پرتغالی‌ها از سواحل و جزایر جنوبی ایران با کمک کشتی‌های جنگی انگلیسی

ب) تثبیت و تحکیم حکومت صفوی و انتقال پایتخت از تبریز به قزوین

۲۶- جای خالی را با گزینه مناسب کامل کنید.

الف) یکی از اهداف استعماری کشور در حمله به ایران، رسیدن به آب‌های خلیج فارس و اقیانوس هند بود.

انگلیس روسیه

ب) در معاهده، ایران از داشتن کشتی جنگی در دریای مازندران محروم گردید.

گلستان ترکمانچای

۲۷- هر یک از اقدامات فرهنگی، مربوط به کدامیک از شخصیت‌های زیر است؟

عباس میرزا - امیر کبیر - میرزا حسن رشدیه

الف) تأسیس مدارس جدید بر اساس روش‌های جدید تعلیم و تربیت

ب) ترجمه کتاب‌های تاریخ اروپا

ج) تأسیس مدرسه دارالفنون

۲۸- در زمان قاجار به موجب عهدنامه گلستان کدام شهرها از حاکمیت ایران خارج و تحت حاکمیت روسیه قرار گرفت؟

موفق باشید.